

# *El uso de la Tecnología en el Proceso de Formular y Validar Conjeturas*

Fernando Barrera Mora  
barrera@uaeh.edu.mx

Universidad Autónoma del Estado de Hidalgo

Seminario, Maestría en Ciencias en Matemáticas y su  
Didáctica

## *“La tecnología ha cambiado la forma de hacer y aprender matemáticas”*

### • Hacer Matemáticas:

- ¿Teoría de Números? Teoría de grupos y encontrar primos? ¿PNT? ¿Conjeturas de Goldbach?

### • Aprender Matemáticas:

- ¿Cómo se aprende matemáticas? ¿Cómo se aprende a pensar matemáticamente? Particularmente, ¿cuál es el rol de la tecnología al formular y demostrar conjeturas?
- ¿Qué tan confiables son los resultados obtenidos con el uso de un sistema computacional?
- ¿Qué trayectorias de aprendizaje tomar cuando los resultados de un sistema computacional no son consistentes con los argumentos matemáticos?

## ***“La tecnología ha cambiado la forma de hacer y aprender matemáticas”***

### **Hacer Matemáticas:**

- **Teoría de Números: Factorar números y encontrar primos.** (SMAW – 1 septiembre de 2003)

### **Aprender Matemáticas:**

- **¿Qué tan confiables son los resultados obtenidos con el uso de un sistema computacional?**
- **¿Qué trayectorias de aprendizaje tomar cuando los resultados de un sistema computacional no son consistentes con los argumentos matemáticos?**

## *“La tecnología ha cambiado la forma de hacer y aprender matemáticas”*

### ● **Hacer Matemáticas:**

- Teoría de Números: Factorizar enteros y encontrar primos: ( $2^{32582657} - 1$ , septiembre 4, 2006)
- Algoritmos y criptografía: procesamiento de información

### ● **Aprender Matemáticas:**

- ¿Cuál es el papel de la tecnología en los procesos del pensar matemáticamente? Particularmente, ¿cuál es el rol de la tecnología al formular y demostrar conjeturas?
- ¿Qué tan confiables son los resultados obtenidos con el uso de un sistema computacional?
- ¿Qué trayectorias de aprendizaje tomar cuando los resultados de un sistema computacional no son consistentes con los argumentos matemáticos?

## *“La tecnología ha cambiado la forma de hacer y aprender matemáticas”*

- **Hacer Matemáticas:**

- **Teoría de Números: Factorizar enteros y encontrar primos: ( $2^{32582657} - 1$ , septiembre 4, 2006)**
- Algoritmos y criptografía: procesamiento de información

- **Aprender Matemáticas:**

- ¿Cuál es el papel de la tecnología en los procesos del pensar matemáticamente? Particularmente, ¿cuál es el rol de la tecnología al formular y demostrar conjeturas?
- ¿Qué tan confiables son los resultados obtenidos con el uso de un sistema computacional?
- ¿Qué trayectorias de aprendizaje tomar cuando los resultados de un sistema computacional no son consistentes con los argumentos matemáticos?

## *“La tecnología ha cambiado la forma de hacer y aprender matemáticas”*

- **Hacer Matemáticas:**

- **Teoría de Números: Factorizar enteros y encontrar primos: ( $2^{32582657} - 1$ , septiembre 4, 2006)**
- **Algoritmos y criptografía: procesamiento de información**

- **Aprender Matemáticas:**

- ¿Cuál es el papel de la tecnología en los procesos del pensar matemáticamente? Particularmente, ¿cuál es el rol de la tecnología al formular y demostrar conjeturas?
- ¿Qué tan confiables son los resultados obtenidos con el uso de un sistema computacional?
- ¿Qué trayectorias de aprendizaje tomar cuando los resultados de un sistema computacional no son consistentes con los argumentos matemáticos?

## *“La tecnología ha cambiado la forma de hacer y aprender matemáticas”*

- **Hacer Matemáticas:**

- **Teoría de Números: Factorizar enteros y encontrar primos:** ( $2^{32582657} - 1$ , septiembre 4, 2006)
- **Algoritmos y criptografía: procesamiento de información**

- **Aprender Matemáticas:**

- ¿Cuál es el papel de la tecnología en los procesos del pensar matemáticamente? Particularmente, ¿cuál es el rol de la tecnología al formular y demostrar conjeturas?
- ¿Qué tan confiables son los resultados obtenidos con el uso de un sistema computacional?
- ¿Qué trayectorias de aprendizaje tomar cuando los resultados de un sistema computacional no son consistentes con los argumentos matemáticos?

*“La tecnología ha cambiado la forma de hacer y aprender matemáticas”*

- **Hacer Matemáticas:**

- **Teoría de Números: Factorizar enteros y encontrar primos:** ( $2^{32582657} - 1$ , septiembre 4, 2006)
- **Algoritmos y criptografía: procesamiento de información**

- **Aprender Matemáticas:**

- **¿Cuál es el papel de la tecnología en los procesos del pensar matemáticamente? Particularmente, ¿cuál es el rol de la tecnología al formular y demostrar conjeturas?**
- ¿Qué tan confiables son los resultados obtenidos con el uso de un sistema computacional?
- ¿Qué trayectorias de aprendizaje tomar cuando los resultados de un sistema computacional no son consistentes con los argumentos matemáticos?



*“La tecnología ha cambiado la forma de hacer y aprender matemáticas”*

- **Hacer Matemáticas:**

- **Teoría de Números: Factorizar enteros y encontrar primos:** ( $2^{32582657} - 1$ , septiembre 4, 2006)
- **Algoritmos y criptografía: procesamiento de información**

- **Aprender Matemáticas:**

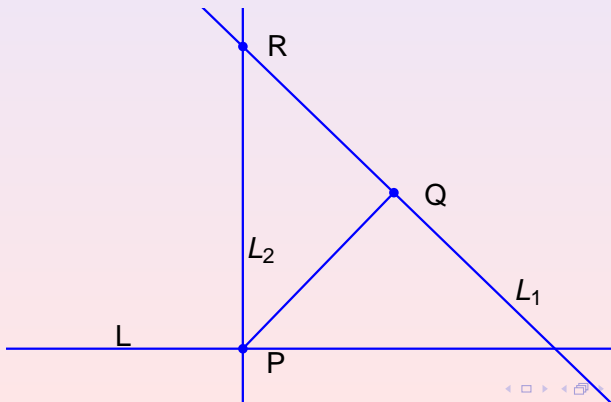
- **¿Cuál es el papel de la tecnología en los procesos del pensar matemáticamente? Particularmente, ¿cuál es el rol de la tecnología al formular y demostrar conjeturas?**
- **¿Qué tan confiables son los resultados obtenidos con el uso de un sistema computacional?**
- **¿Qué trayectorias de aprendizaje tomar cuando los resultados de un sistema computacional no son consistentes con los argumentos matemáticos?**

*“La tecnología ha cambiado la forma de hacer y aprender matemáticas”*

- **Hacer Matemáticas:**
  - Teoría de Números: Factorizar enteros y encontrar primos: ( $2^{32582657} - 1$ , septiembre 4, 2006)
  - Algoritmos y criptografía: procesamiento de información
- **Aprender Matemáticas:**
  - ¿Cuál es el papel de la tecnología en los procesos del pensar matemáticamente? Particularmente, ¿cuál es el rol de la tecnología al formular y demostrar conjeturas?
  - ¿Qué tan confiables son los resultados obtenidos con el uso de un sistema computacional?
  - ¿Qué trayectorias de aprendizaje tomar cuando los resultados de un sistema computacional no son consistentes con los argumentos matemáticos?

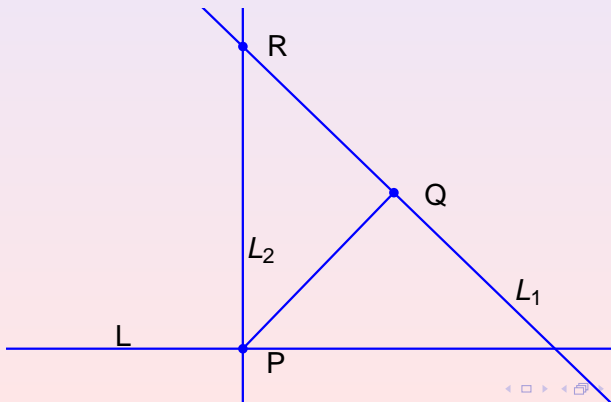
# PROBLEMA

- Dada una recta  $L$ ,  $P \in L$  y  $Q \notin L$ , se traza el segmento  $PQ$ , la recta  $L_1$  perpendicular a  $PQ$  en  $Q$  y la recta  $L_2$  perpendicular a  $L$  en  $P$ . Sea  $R \in L_1 \cap L_2$ . ¿Qué lugar geométrico describe  $R$  al moverse  $P$  en  $L$ ?



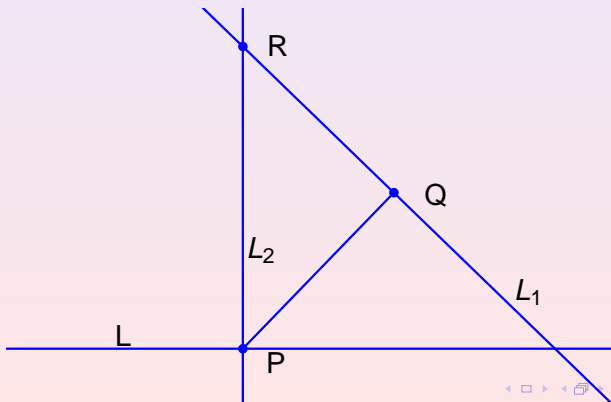
# PROBLEMA

- Dada una recta  $L$ ,  $P \in L$  y  $Q \notin L$ , se traza el segmento  $PQ$ , la recta  $L_1$  perpendicular a  $PQ$  en  $Q$  y la recta  $L_2$  perpendicular a  $L$  en  $P$ . Sea  $R \in L_1 \cap L_2$ . ¿Qué lugar geométrico describe  $R$  al moverse  $P$  en  $L$ ?



# PROBLEMA

- Dada una recta  $L$ ,  $P \in L$  y  $Q \notin L$ , se traza el segmento  $PQ$ , la recta  $L_1$  perpendicular a  $PQ$  en  $Q$  y la recta  $L_2$  perpendicular a  $L$  en  $P$ . Sea  $R \in L_1 \cap L_2$ . ¿Qué lugar geométrico describe  $R$  al moverse  $P$  en  $L$ ?



- Ecuación de la recta que pasa por  $P = (t, 0)$  y  $Q = (a, b)$ :

$$y = \frac{b}{a-t}(x-t).$$

- Ecuación de la recta perpendicular a  $PQ$ , en  $Q$ :

$$y = \frac{t-a}{b}(x-a) + b.$$

- Ecuación de la recta vertical que pasa por  $P$ :  $x = t$ .

- Coordenadas de  $R$ :  $\left(t, \frac{(t-a)^2}{b} + b\right)$ .

- Lugar geométrico: Parábola con foco en  $\left(a, b + \frac{b}{4}\right)$  y

$$\text{directriz: } y = b - \frac{b}{4}.$$

- ① Ecuación de la recta que pasa por  $P = (t, 0)$  y  $Q = (a, b)$ :

$$y = \frac{b}{a-t}(x-t).$$

- ② Ecuación de la recta perpendicular a  $PQ$ , en  $Q$ :

$$y = \frac{t-a}{b}(x-a) + b.$$

- ③ Ecuación de la recta vertical que pasa por  $P$ :  $x = t$ .

- ④ Coordenadas de  $R$ :  $\left(t, \frac{(t-a)^2}{b} + b\right)$ .

- ⑤ Lugar geométrico: Parábola con foco en  $\left(a, b + \frac{b}{4}\right)$  y

$$\text{directriz: } y = b - \frac{b}{4}.$$

- 1 Ecuación de la recta que pasa por  $P = (t, 0)$  y  $Q = (a, b)$ :

$$y = \frac{b}{a-t}(x-t).$$

- 2 Ecuación de la recta perpendicular a  $PQ$ , en  $Q$ :

$$y = \frac{t-a}{b}(x-a) + b.$$

- 3 Ecuación de la recta vertical que pasa por  $P$ :  $x = t$ .

- 4 Coordenadas de  $R$ :  $\left(t, \frac{(t-a)^2}{b} + b\right)$ .

- 5 Lugar geométrico: Parábola con foco en  $\left(a, b + \frac{b}{4}\right)$  y

directriz:  $y = b - \frac{b}{4}$ .



- 1 Ecuación de la recta que pasa por  $P = (t, 0)$  y  $Q = (a, b)$ :

$$y = \frac{b}{a-t}(x-t).$$

- 2 Ecuación de la recta perpendicular a  $PQ$ , en  $Q$ :

$$y = \frac{t-a}{b}(x-a) + b.$$

- 3 Ecuación de la recta vertical que pasa por  $P$ :  $x = t$ .

- 4 Coordenadas de  $R$ :  $\left(t, \frac{(t-a)^2}{b} + b\right)$ .

- 5 Lugar geométrico: Parábola con foco en  $\left(a, b + \frac{b}{4}\right)$  y

directriz:  $y = b - \frac{b}{4}$ .

# VALIDANDO CONJETURAS

- 1 Ecuación de la recta que pasa por  $P = (t, 0)$  y  $Q = (a, b)$ :

$$y = \frac{b}{a-t}(x-t).$$

- 2 Ecuación de la recta perpendicular a  $PQ$ , en  $Q$ :

$$y = \frac{t-a}{b}(x-a) + b.$$

- 3 Ecuación de la recta vertical que pasa por  $P$ :  $x = t$ .

- 4 **Coordenadas de  $R$ :  $\left(t, \frac{(t-a)^2}{b} + b\right)$ .**

- 5 Lugar geométrico: Parábola con foco en  $\left(a, b + \frac{b}{4}\right)$  y

directriz:  $y = b - \frac{b}{4}$ .

- 1 Ecuación de la recta que pasa por  $P = (t, 0)$  y  $Q = (a, b)$ :

$$y = \frac{b}{a-t}(x-t).$$

- 2 Ecuación de la recta perpendicular a  $PQ$ , en  $Q$ :

$$y = \frac{t-a}{b}(x-a) + b.$$

- 3 Ecuación de la recta vertical que pasa por  $P$ :  $x = t$ .

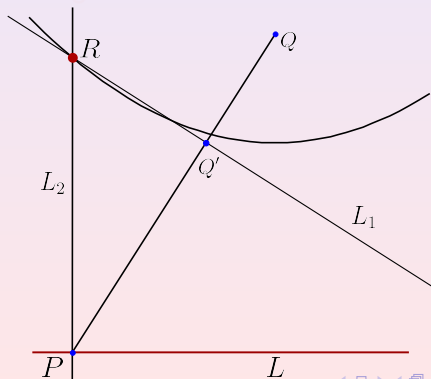
- 4 Coordenadas de  $R$ :  $\left(t, \frac{(t-a)^2}{b} + b\right)$ .

- 5 Lugar geométrico: Parábola con foco en  $\left(a, b + \frac{b}{4}\right)$  y

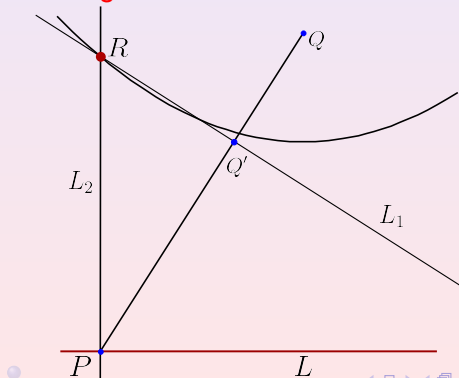
directriz:  $y = b - \frac{b}{4}$ .

# GENERALIZANDO

- Dada una recta  $L$ , un punto  $P \in L$ , un punto  $Q \notin L$ , y un punto  $Q'$  en el segmento  $PQ$ , se traza la recta  $L_1$  perpendicular a  $PQ$  en  $Q'$  y la recta  $L_2$  perpendicular a  $L$  en  $P$ . Sea  $R \in L_1 \cap L_2$ . ¿Qué lugar geométrico describe  $R$  al moverse  $P$  en  $L$ ? ¿Qué ocurre con el lugar geométrico al mover  $Q'$  en el segmento  $PQ$ ?

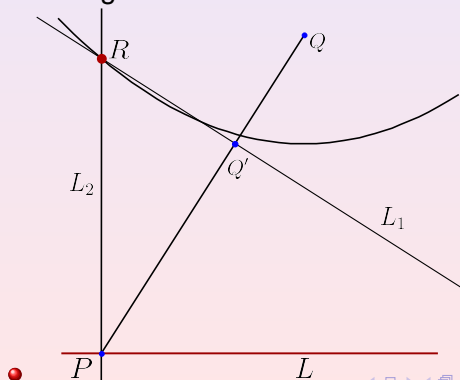


- Dada una recta  $L$ , un punto  $P \in L$ , un punto  $Q \notin L$ , y un punto  $Q'$  en el segmento  $PQ$ , se traza la recta  $L_1$  perpendicular a  $PQ$  en  $Q'$  y la recta  $L_2$  perpendicular a  $L$  en  $P$ . Sea  $R \in L_1 \cap L_2$ . ¿Qué lugar geométrico describe  $R$  al moverse  $P$  en  $L$ ? ¿Qué ocurre con el lugar geométrico al mover  $Q'$  en el segmento  $PQ$ ?



# GENERALIZANDO

- Dada una recta  $L$ , un punto  $P \in L$ , un punto  $Q \notin L$ , y un punto  $Q'$  en el segmento  $PQ$ , se traza la recta  $L_1$  perpendicular a  $PQ$  en  $Q'$  y la recta  $L_2$  perpendicular a  $L$  en  $P$ . Sea  $R \in L_1 \cap L_2$ . ¿Qué lugar geométrico describe  $R$  al moverse  $P$  en  $L$ ? ¿Qué ocurre con el lugar geométrico al mover  $Q'$  en el segmento  $PQ$ ?



# ¿CÓMO EFECTÚA CABRI GEOMETRY CIERTAS TRANSFORMACIONES GEOMÉTRICAS?

● Suponemos  $Q = (a, b)$  fijo,  $Q' = (c, d)$  y  $P = (t, 0)$ .

● La ecuación de la recta que pasa por  $P$  y  $Q$  es

$$y - b = \frac{b}{a - t}(x - a).$$

● La ecuación de  $L_1$  es:

$$y - d = \frac{t - a}{b}(x - c) \quad (1)$$

$$= \frac{t - a}{b}(x - a - c + a) \quad (2)$$

$$= \frac{(t - a)(x - a)}{b} + \frac{t - a}{b}(a - c). \quad (3)$$

●  $Q' \in (PQ) \Rightarrow d - b = \frac{b}{a - t}(c - a).$

● Despejando  $a - c$ , sustituyendo en (3), haciendo  $x = t$  y

simplificando obtenemos  $y - d = \frac{d}{b^2}(x - a)^2.$

# ¿CÓMO EFECTÚA CABRI GEOMETRY CIERTAS TRANSFORMACIONES GEOMÉTRICAS?

① Suponemos  $Q = (a, b)$  fijo,  $Q' = (c, d)$  y  $P = (t, 0)$ .

② La ecuación de la recta que pasa por  $P$  y  $Q$  es

$$y - b = \frac{b}{a - t}(x - a).$$

③ La ecuación de  $L_1$  es:

$$y - d = \frac{t - a}{b}(x - c) \quad (1)$$

$$= \frac{t - a}{b}(x - a - c + a) \quad (2)$$

$$= \frac{(t - a)(x - a)}{b} + \frac{t - a}{b}(a - c). \quad (3)$$

④  $Q' \in (PQ) \Rightarrow d - b = \frac{b}{a - t}(c - a).$

⑤ Despejando  $a - c$ , sustituyendo en (3), haciendo  $x = t$  y simplificando obtenemos  $y - d = \frac{d}{b^2}(x - a)^2.$



# ¿CÓMO EFECTÚA CABRI GEOMETRY CIERTAS TRANSFORMACIONES GEOMÉTRICAS?

① Suponemos  $Q = (a, b)$  fijo,  $Q' = (c, d)$  y  $P = (t, 0)$ .

② La ecuación de la recta que pasa por  $P$  y  $Q$  es

$$y - b = \frac{b}{a - t}(x - a).$$

③ La ecuación de  $L_1$  es:

$$y - d = \frac{t - a}{b}(x - c) \quad (1)$$

$$= \frac{t - a}{b}(x - a - c + a) \quad (2)$$

$$= \frac{(t - a)(x - a)}{b} + \frac{t - a}{b}(a - c). \quad (3)$$

④  $Q' \in (PQ) \Rightarrow d - b = \frac{b}{a - t}(c - a).$

⑤ Despejando  $a - c$ , sustituyendo en (3), haciendo  $x = t$  y simplificando obtenemos  $y - d = \frac{d}{b^2}(x - a)^2.$

# ¿CÓMO EFECTÚA CABRI GEOMETRY CIERTAS TRANSFORMACIONES GEOMÉTRICAS?

- 1 Suponemos  $Q = (a, b)$  fijo,  $Q' = (c, d)$  y  $P = (t, 0)$ .
- 2 La ecuación de la recta que pasa por  $P$  y  $Q$  es

$$y - b = \frac{b}{a - t}(x - a).$$

- 3 La ecuación de  $L_1$  es:

$$y - d = \frac{t - a}{b}(x - c) \quad (1)$$

$$= \frac{t - a}{b}(x - a - c + a) \quad (2)$$

$$= \frac{(t - a)(x - a)}{b} + \frac{t - a}{b}(a - c). \quad (3)$$

- 4  $Q' \in (PQ) \Rightarrow d - b = \frac{b}{a - t}(c - a).$

- 5 Despejando  $a - c$ , sustituyendo en (3), haciendo  $x = t$  y simplificando obtenemos  $y - d = \frac{d}{b^2}(x - a)^2.$

# ¿CÓMO EFECTÚA CABRI GEOMETRY CIERTAS TRANSFORMACIONES GEOMÉTRICAS?

- 1 Suponemos  $Q = (a, b)$  fijo,  $Q' = (c, d)$  y  $P = (t, 0)$ .
- 2 La ecuación de la recta que pasa por  $P$  y  $Q$  es

$$y - b = \frac{b}{a - t}(x - a).$$

- 3 La ecuación de  $L_1$  es:

$$y - d = \frac{t - a}{b}(x - c) \quad (1)$$

$$= \frac{t - a}{b}(x - a - c + a) \quad (2)$$

$$= \frac{(t - a)(x - a)}{b} + \frac{t - a}{b}(a - c). \quad (3)$$

- 4  $Q' \in (PQ) \Rightarrow d - b = \frac{b}{a - t}(c - a).$

- 5 Despejando  $a - c$ , sustituyendo en (3), haciendo  $x = t$  y simplificando obtenemos  $y - d = \frac{d}{b^2}(x - a)^2.$

# ¿CÓMO EFECTÚA CABRI GEOMETRY CIERTAS TRANSFORMACIONES GEOMÉTRICAS?

- 1 Suponemos  $Q = (a, b)$  fijo,  $Q' = (c, d)$  y  $P = (t, 0)$ .
- 2 La ecuación de la recta que pasa por  $P$  y  $Q$  es

$$y - b = \frac{b}{a - t}(x - a).$$

- 3 La ecuación de  $L_1$  es:

$$y - d = \frac{t - a}{b}(x - c) \quad (1)$$

$$= \frac{t - a}{b}(x - a - c + a) \quad (2)$$

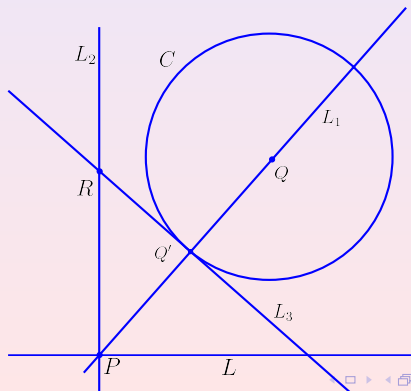
$$= \frac{(t - a)(x - a)}{b} + \frac{t - a}{b}(a - c). \quad (3)$$

- 4  $Q' \in (PQ) \Rightarrow d - b = \frac{b}{a - t}(c - a).$

- 5 Despejando  $a - c$ , sustituyendo en (3), haciendo  $x = t$  y simplificando obtenemos  $y - d = \frac{d}{b^2}(x - a)^2.$

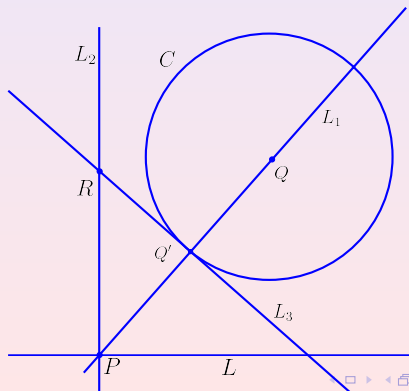
# EXPLORANDO EL MECANISMO DE CABRI

- Dada una recta  $L$ , un punto  $P \in L$ , una circunferencia  $C$  de centro  $Q \notin L$  y radio  $r$ , se trazan, la recta  $L_1$  que pasa por  $P$  y  $Q$ ; la recta  $L_2$  que pasa por  $P$  y es perpendicular a  $L$ . Sean  $Q' \in L_1 \cap C$ ,  $L_3$  la recta tangente a  $C$  en  $Q'$ ,  $R$  el punto de intersección de  $L_2$  y  $L_3$ . ¿Qué lugar geométrico describe  $R$  al moverse  $P$  en  $L$ ?



# EXPLORANDO EL MECANISMO DE CABRI

- Dada una recta  $L$ , un punto  $P \in L$ , una circunferencia  $C$  de centro  $Q \notin L$  y radio  $r$ , se trazan, la recta  $L_1$  que pasa por  $P$  y  $Q$ ; la recta  $L_2$  que pasa por  $P$  y es perpendicular a  $L$ . Sean  $Q' \in L_1 \cap C$ ,  $L_3$  la recta tangente a  $C$  en  $Q'$ ,  $R$  el punto de intersección de  $L_2$  y  $L_3$ . ¿Qué lugar geométrico describe  $R$  al moverse  $P$  en  $L$ ?



- Si  $Q = (a, b)$  y  $P = (t, 0)$ , entonces las ecuaciones de  $L_1$  y  $C$  son:

$$y - b = \frac{b}{a - t}(x - a) \quad (4)$$

$$r^2 = (x - a)^2 + (y - b)^2 \quad (5)$$

- Resolviendo el sistema se tiene:

$$x_0 = a \pm \frac{r(a - t)}{\sqrt{(a - t)^2 + b^2}} \quad (6)$$

$$y_0 = b \left( 1 \pm \frac{r}{\sqrt{(a - t)^2 + b^2}} \right) \quad (7)$$

- Si  $Q = (a, b)$  y  $P = (t, 0)$ , entonces las ecuaciones de  $L_1$  y  $C$  son:

$$y - b = \frac{b}{a - t}(x - a) \quad (4)$$

$$r^2 = (x - a)^2 + (y - b)^2 \quad (5)$$

- Resolviendo el sistema se tiene:

$$x_0 = a \pm \frac{r(a - t)}{\sqrt{(a - t)^2 + b^2}} \quad (6)$$

$$y_0 = b \left( 1 \pm \frac{r}{\sqrt{(a - t)^2 + b^2}} \right) \quad (7)$$



- Si  $Q = (a, b)$  y  $P = (t, 0)$ , entonces las ecuaciones de  $L_1$  y  $C$  son:

$$y - b = \frac{b}{a - t}(x - a) \quad (4)$$

$$r^2 = (x - a)^2 + (y - b)^2 \quad (5)$$

- Resolviendo el sistema se tiene:

$$x_0 = a \pm \frac{r(a - t)}{\sqrt{(a - t)^2 + b^2}} \quad (6)$$

$$y_0 = b \left( 1 \pm \frac{r}{\sqrt{(a - t)^2 + b^2}} \right) \quad (7)$$

- Como  $Q' = (x_0, y_0)$  y  $L_3$  es perpendicular a  $L_1$ , entonces la ecuación de  $L_3$  es:

$$y - y_0 = \frac{t - a}{b}(x - x_0). \quad (8)$$

- Sustituyendo los valores de  $x_0, y_0, x = t$  y simplificando se tiene que las coordenadas de  $R$  son:

$$R = \left( t, \frac{1}{b} \left( (t - a)^2 + b^2 \pm r \sqrt{(t - a)^2 + b^2} \right) \right). \quad (9)$$

- Como  $Q' = (x_0, y_0)$  y  $L_3$  es perpendicular a  $L_1$ , entonces la ecuación de  $L_3$  es:

$$y - y_0 = \frac{t - a}{b}(x - x_0). \quad (8)$$

- Sustituyendo los valores de  $x_0, y_0, x = t$  y simplificando se tiene que las coordenadas de  $R$  son:

$$R = \left( t, \frac{1}{b} \left( (t - a)^2 + b^2 \pm r \sqrt{(t - a)^2 + b^2} \right) \right). \quad (9)$$

- Como  $Q' = (x_0, y_0)$  y  $L_3$  es perpendicular a  $L_1$ , entonces la ecuación de  $L_3$  es:

$$y - y_0 = \frac{t - a}{b}(x - x_0). \quad (8)$$

- Sustituyendo los valores de  $x_0, y_0, x = t$  y simplificando se tiene que las coordenadas de  $R$  son:

$$R = \left( t, \frac{1}{b} \left( (t - a)^2 + b^2 \pm r\sqrt{(t - a)^2 + b^2} \right) \right). \quad (9)$$

# COMPARANDO RESULTADOS

- En el problema inicial se encontró que la ecuación de la parábola es:

$$y = \frac{(x - a)^2}{b} + b \quad (10)$$

- En la extensión se encuentra una familia de parábolas con ecuación:

$$y - d = \frac{d}{b^2}(x - a)^2 + b \quad (11)$$

- En la discusión previa se estableció que la ecuación del lugar geométrico es:

$$y = \frac{1}{b} \left( (x - a)^2 + b^2 \pm r \sqrt{(x - a)^2 + b^2} \right). \quad (12)$$

- Nótese que “tomando límite” en las ecuaciones 11 y 12 se obtiene (10).

- En el problema inicial se encontró que la ecuación de la parábola es:

$$y = \frac{(x - a)^2}{b} + b \quad (10)$$

- En la extensión se encuentra una familia de parábolas con ecuación:

$$y - d = \frac{d}{b^2}(x - a)^2 + b \quad (11)$$

- En la discusión previa se estableció que la ecuación del lugar geométrico es:

$$y = \frac{1}{b} \left( (x - a)^2 + b^2 \pm r \sqrt{(x - a)^2 + b^2} \right). \quad (12)$$

- Nótese que “tomando límite” en las ecuaciones 11 y 12 se obtiene (10).

# COMPARANDO RESULTADOS

- En el problema inicial se encontró que la ecuación de la parábola es:

$$y = \frac{(x - a)^2}{b} + b \quad (10)$$

- En la extensión se encuentra una familia de parábolas con ecuación:

$$y - d = \frac{d}{b^2}(x - a)^2 + b \quad (11)$$

- En la discusión previa se estableció que la ecuación del lugar geométrico es:

$$y = \frac{1}{b} \left( (x - a)^2 + b^2 \pm r \sqrt{(x - a)^2 + b^2} \right). \quad (12)$$

- Nótese que “tomando límite” en las ecuaciones 11 y 12 se obtiene (10).

- En el problema inicial se encontró que la ecuación de la parábola es:

$$y = \frac{(x - a)^2}{b} + b \quad (10)$$

- En la extensión se encuentra una familia de parábolas con ecuación:

$$y - d = \frac{d}{b^2}(x - a)^2 + b \quad (11)$$

- En la discusión previa se estableció que la ecuación del lugar geométrico es:

$$y = \frac{1}{b} \left( (x - a)^2 + b^2 \pm r \sqrt{(x - a)^2 + b^2} \right). \quad (12)$$

- Nótese que “tomando límite” en las ecuaciones 11 y 12 se obtiene (10).



# COMPARANDO RESULTADOS

- En el problema inicial se encontró que la ecuación de la parábola es:

$$y = \frac{(x - a)^2}{b} + b \quad (10)$$

- En la extensión se encuentra una familia de parábolas con ecuación:

$$y - d = \frac{d}{b^2}(x - a)^2 + b \quad (11)$$

- En la discusión previa se estableció que la ecuación del lugar geométrico es:

$$y = \frac{1}{b} \left( (x - a)^2 + b^2 \pm r \sqrt{(x - a)^2 + b^2} \right). \quad (12)$$

- Nótese que “tomando límite” en las ecuaciones 11 y 12 se obtiene (10).**

# CONCLUSIONES Y EPÍLOGO

- La exploración, a cierta profundidad, de problemas utilizando un sistema computacional aporta elementos para identificar la potencialidad y limitaciones de éste.
- Utilizar un sistema computacional para resolver problemas permite establecer conexiones relevantes entre diferentes contenidos matemáticos (propiedades de configuraciones geométricas y procesos al límite).
- Epílogo: "Las computadoras igualarán la inteligencia humana en 20 años", La Jornada, febrero 21 2008.

# CONCLUSIONES Y EPÍLOGO

- 1 La exploración, a cierta profundidad, de problemas utilizando un sistema computacional aporta elementos para identificar la potencialidad y limitaciones de éste.
- 2 Utilizar un sistema computacional para resolver problemas permite establecer conexiones relevantes entre diferentes contenidos matemáticos (propiedades de configuraciones geométricas y procesos al límite).
- 3 Epílogo: “Las computadoras igualarán la inteligencia humana en 20 años”, La Jornada, febrero 21 2008.

# CONCLUSIONES Y EPÍLOGO

- 1 La exploración, a cierta profundidad, de problemas utilizando un sistema computacional aporta elementos para identificar la potencialidad y limitaciones de éste.
- 2 Utilizar un sistema computacional para resolver problemas permite establecer conexiones relevantes entre diferentes contenidos matemáticos (propiedades de configuraciones geométricas y procesos al límite).
- 3 Epílogo: “Las computadoras igualarán la inteligencia humana en 20 años”, La Jornada, febrero 21 2008.

# CONCLUSIONES Y EPÍLOGO

- 1 La exploración, a cierta profundidad, de problemas utilizando un sistema computacional aporta elementos para identificar la potencialidad y limitaciones de éste.
- 2 Utilizar un sistema computacional para resolver problemas permite establecer conexiones relevantes entre diferentes contenidos matemáticos (propiedades de configuraciones geométricas y procesos al límite).
- 3 **Epílogo: “Las computadoras igualarán la inteligencia humana en 20 años”, La Jornada, febrero 21 2008.**